

Nas questões de 1 a 40, marque, em cada uma, a única opção correta, de acordo com o respectivo comando. Na **folha de respostas**, a indicação do campo **SR** é facultativa e não contará para efeito de avaliação; servirá somente para caracterizar que o candidato desconhece a resposta correta. Use a folha de rascunho para as devidas marcações e, posteriormente, a **folha de respostas**.

LÍNGUA PORTUGUESA

Texto LP-I – questões 1 e 2

Os mais bem preparados

1 A Internet surgiu na década de 90, prometendo rever os valores do capitalismo e até mesmo modificar as relações entre as pessoas, que iriam comunicar-se mais por meio de *chats* e *e-mails* que pessoalmente. Empresas chamadas *pontocom* viram, da noite para o dia, suas ações valorizadas às alturas, mesmo sem possuir ativo algum além daquele velho computador. O ápice 4 da euforia ocorreu em 1999, quando o índice NASDAQ, que mede a cotação das companhias de alta tecnologia no mundo, deu um salto de 86%.

Em abril do ano seguinte, deu-se o turbilhão. O NASDAQ caiu 25% em uma semana, e o fabuloso mundo virtual começou 7 a trincar. No Brasil, os reflexos foram prejuízos e cortes nos investimentos das empresas do setor. Todas enxugaram seus custos e muitas fecharam as portas. Esse período de exuberância irracional, no entanto, fez nascer uma importante estrutura de Internet em diversos países do mundo, entre os quais o Brasil, cuja qualidade e tamanho eram desconhecidos até agora. Nos próximos dias, 10 o Grupo de Tecnologia da Informação da Universidade Harvard, nos Estados Unidos da América (EUA), deve divulgar uma pesquisa, avaliando o grau de prontidão para a economia virtual de 75 países. A pesquisa, coordenada pelo economista Jeffrey Sachs, levou em conta dez indicadores. Os países receberam notas individuais em cada um dos itens, depois misturados em uma 13 tabela final.

Luis Henrique Amaral. *Internet*. In: *Veja online*, 3/4/2002. Internet: <http://www2.uol.com.br/veja/030402/p_066.html> (com adaptações).

QUESTÃO 1

Considerando que cada opção abaixo contém uma paráfrase das idéias essenciais da passagem indicada do texto LP-I, assinale a opção correta com relação à manutenção do sentido original.

- A “A Internet (...) pessoalmente” (l.1-2) – A Internet, que surgiu na década de 90, prometia uma revisão dos valores do capitalismo e uma modificação das relações interpessoais, as quais se iriam dar menos pessoalmente que por meio de *chats* e de *e-mails*.
- B “Empresas (...) salto de 86%” (l.2-5) – Empresas com a extensão de *ponto.com* tiveram a visão, da noite para o dia, quando o índice NASDAQ, deu um salto de 86%, além da supervalorização de suas ações valorizadas às alturas, mesmo possuindo ativo aquém do previsto e necessário: daquele velho computador.
- C “Em abril (...) as portas” (l.6-8) – Em abril de 2000, ocorre o turbilhão NASDAQ, cuja queda de 25% em uma semana levou o fabuloso mundo virtual a trincar, no Brasil, com reflexos, prejuízos e cortes nos investimentos das empresas, pelo enxugamento de seus custos e muitos fechamento de portas.
- D “Esse período (...) 75 países” (l.8-11) – O período de grande irracionalidade, que foi de 1999 a 2001, fez surgir no Brasil e no mundo a Internet, desconhecida até então, o que deflagrou a pesquisa do setor de Informação da Universidade Harvard, cuja divulgação pôs em alerta a economia de 75 países.
- E “A pesquisa (...) tabela final” (l.11-13) – A pesquisa descrita sob a forma gráfica, coordenada pelo economista Sachs, levou em conta indicadores de dez países, os quais receberam notas individuais em cada um dos itens, cujos valores foram depois misturados em uma tabela.

QUESTÃO 2

Com relação à significação literal, ao arranjo contextual dos vocábulos e à tipologia textual do texto LP-I, assinale a opção **incorreta**.

- A Em nenhum trecho do texto, o autor manifesta seu ponto de vista, argumentando favorável ou desfavoravelmente aos fatos apresentados, ou emitindo opinião pessoal.
- B O texto inicia-se com uma passagem narrativa, o que pode ser confirmado pela situação dos fatos na linha cronológica crescente.
- C O segundo período do texto é essencialmente descritivo, construído a partir de substantivos comuns relacionados a verbos sem idéia de movimento.
- D A passagem situada nas linhas de 7 a 9, quando focaliza o problema no Brasil, é predominantemente dissertativa, porque apresenta as repercussões, em solo nacional, dos problemas do exterior.
- E A partir da linha 9, o autor, adotando as características valorizadas em um discurso técnico e analítico, relata os fatos de forma impessoal, objetiva e clara.

Destaques da pesquisa	
1	A Universidade Harvard fez um levantamento junto a 75 países para identificar quais estão em melhores condições para enfrentar o avanço da economia digital. Para chegar ao <i>ranking</i> , foram avaliados dez itens, tais como infra-estrutura de telecomunicações, comércio eletrônico e serviços <i>online</i> oferecidos pelo governo. O quadro destaca os dez mais bem preparados e analisa a posição do Brasil.
4	
7	
10	
13	
1	1.º EUA
2	2.º Islândia
3	3.º Finlândia
4	4.º Suécia
5	5.º Noruega
6	6.º Holanda
7	7.º Dinamarca
8	8.º Cingapura
9	9.º Áustria
10	10.º Grã-Bretanha
38	38.º Brasil
	Atrás de países como Argentina, Chile e Uruguai

Quadro I

1	No <i>ranking</i> dos governos, segundo a qualidade das informações prestadas à sociedade, o Brasil ficou em 15.º lugar, no mesmo nível da Holanda, da Áustria e da França.
4	
7	
10	
	No <i>ranking</i> das vendas <i>online</i> , o Brasil ficou em 18.º lugar, no mesmo nível da Austrália, da Itália e do Japão.

Quadro II

Idem, *ibidem*.

QUESTÃO 3

Considerando a hipótese de o texto LP-II ser reorganizado com todos os países do quadro I listados em ordem alfabética, incluindo aqueles sem classificação e aos quais o Brasil é comparado, assinale a opção **incorreta** quanto ao sentido e à grafia.

- A O último país a ser referido seria o Uruguai.
- B O Brasil estaria entre Áustria e Cingapura.
- C A nova ordenação colocaria o ocupante da terceira posição antes do que está em décimo lugar e o sexto país, antes do segundo mencionado no quadro.
- D Na nova listagem, os EUA, do primeiro lugar passariam a ocupar o sétimo lugar.
- E O nome referente à Inglaterra, por conter um prefixo, deveria ser o terceiro da lista e teria como entrada a forma **Bretanha**.

QUESTÃO 4

Com relação à classe, à representação, à estrutura e à formação das palavras do texto LP-II, assinale a opção correta.

- A No quadro I, a construção “melhores condições” (l.4) segue as normas gramaticais; no entanto, a construção “mais bem preparados” (l.11-12) não segue tais normas, porque deveria estar grafada como **melhores preparados**.
- B No quadro I, o vocábulo “digital” (l.5) está empregado como substantivo, equivalente à palavra “eletrônico” (l.9).
- C No quadro I, em “Para chegar ao *ranking*” (l.6), há uma relação de finalidade, expressa por “Para”; no quadro II, em “segundo a qualidade das informações prestadas” (l.2-5), há uma circunstância de conformidade, expressa pela palavra “segundo”.
- D As palavras “infra-estrutura” e “telecomunicações”, ambas na linha 8 do quadro I, pertencem à mesma classe e são construídas pelo mesmo processo de formação vocabular.
- E Os vocábulos “*ranking*” e “*online*” são neologismos que entraram na língua portuguesa com o avanço tecnológico das últimas décadas.

QUESTÃO 5

1 Esse *ranking* deve ser observado com seriedade porque o mercado não acredita mais na existência de um mundo virtual em contraposição à
4 economia real. Mas investe pesado nas transações comerciais *online*, que representam um ganho significativo de tempo e uma redução expressiva de
7 custos. Para isso, os países precisam dispor de estrutura.

De acordo com os estudiosos, países
10 socialmente atrasados têm mais dificuldade para difundir a economia virtual. A posição brasileira melhora para 18.º lugar na área do chamado
13 *e-commerce*, transações de compra e venda realizadas pela Internet, e chega a 15.º no item que mede a qualidade das informações e os serviços
16 virtuais prestados pelo governo à sociedade.

Um dos destaques brasileiros no campo do que o jargão técnico chama de *governo eletrônico* é
19 o sistema de envio da declaração de imposto de renda pela Internet. Ele é considerado o mais avançado do mundo. Atualmente, 93% das
22 declarações são entregues por meio digital. A burocracia do governo também é altamente informatizada. O presidente Fernando Henrique
25 Cardoso, por exemplo, não assina mais boa parte dos documentos que chegam até ele. Usa um cartão magnético e uma senha eletrônica. Toda a transação
28 de leis entre o Congresso, o Palácio do Planalto e os ministérios é feita por via digital.

Idem, *ibidem* (com adaptações).

De acordo com as idéias do texto acima, julgue os itens subsequentes.

- I O resultado do *ranking* indica que o mercado descrê de notícias virtuais.
- II Os países necessitam contar com estrutura para transações comerciais *online*.
- III Sociedades atrasadas têm mais dificuldade para usufruir dos benefícios da economia virtual.
- IV A posição brasileira é melhor na área dos serviços virtuais prestados pelo governo que em outras áreas.
- V As informações e os serviços de comércio do governo brasileiro à sociedade virtual coloca o país em posição desfavorável no mercado externo.
- VI O sistema atual de envio da declaração de imposto de renda e a burocracia do governo brasileiro são altamente informatizados.

Estão certos apenas os itens

- A I, II e VI.
- B I, III e V.
- C II, III e IV.
- D II, IV e VI.
- E III, IV e V.

QUESTÃO 6

Assinale a opção em que a pontuação e a concordância do fragmento de texto está **incorreta**.

- A** O *ranking* deve ser observado com seriedade, porque o mercado não acredita mais na existência de um mundo virtual em contraposição à economia real, mas investe pesado nas transações comerciais *online*, que representam um ganho significativo de tempo e uma redução expressiva de custos.
- B** De acordo com estudiosos, os países socialmente atrasados têm mais dificuldade para difundir a economia virtual; nesse sentido, a posição brasileira melhora para 18.º lugar na área do chamado *e-commerce*, em que as transações de compra e venda são realizadas pela Internet, e chega a 15.º no item que mede a qualidade das informações e os serviços virtuais prestados pelo governo à sociedade.
- C** Um dos destaques brasileiros, naquilo que o jargão técnico chama de *governo eletrônico*, é o sistema de envio da declaração de imposto de renda pela Internet: ele é considerado o mais avançado do mundo, uma vez que, atualmente mais de 90% das declarações é entregues por meio digital.
- D** Os setores burocráticos e o governo também são altamente informatizados: o atual presidente, Fernando Henrique Cardoso, por exemplo, não assina mais boa parte dos documentos que chega até ele; usa um cartão magnético e uma senha eletrônica.
- E** Toda a transação de leis entre o Congresso, o Palácio do Planalto e os Ministérios é feita digitalmente; ou seja, uma nova estrutura contribui para que os projetos sejam votados pelos parlamentares.

Opções adaptadas de Luis Henrique Amaral. *Internet. In: Veja online*, 3/4/2002. *Internet*: <http://www2.uol.com.br/veja/030402/p_066.html>.

Texto LP-III – questões de 7 a 9

Jovens universitários e recém-formados ficam ansiosos pela primeira oportunidade no mercado de trabalho, mas o caminho até encontrá-la geralmente é árduo. Um bom atalho pode ser a inscrição nos concursos patrocinados por empresas interessadas em identificar novos talentos, que já viraram tradição em disciplinas como direito, arquitetura e engenharia e começam a se espalhar por outras áreas. “O prêmio me abriu algumas portas e vai continuar abrindo, pois passou a fazer parte de meu currículo”, diz o advogado recém-formado Marcello Rodante, de 23 anos de idade, vencedor da edição 2001 do concurso de monografias de um dos escritórios de advocacia mais respeitados do país. O texto que Rodante escreveu acerca das controvérsias do novo Código Civil passou pelo crivo de uma comissão de especialistas que incluía um ministro do Superior Tribunal de Justiça e um deputado federal, relator do projeto do Código da Câmara dos Deputados. Graças ao prêmio, o rapaz recebeu uma promoção no escritório em que já trabalhava antes mesmo de se formar.

Patrocinar um concurso para estudantes costuma ser bom negócio para a empresa. É uma estratégia eficaz para reforçar a imagem diante do mercado — e dos profissionais que atuarão nele — a um custo baixo. Os gastos se limitam à divulgação e aos prêmios. Algumas companhias já fazem anualmente esse tipo de evento. Para algumas companhias, provocar a criatividade dos estudantes traz ganhos ainda mais práticos.

“Temos interesse em aproveitar realmente as idéias apresentadas pelos candidatos”, afirma o presidente da Alcoa Alumínio, Adjarma Azevedo. O mote do prêmio bancado pela empresa é o desenvolvimento de produtos aplicáveis a qualquer área da companhia, da fábrica à administração. “Queremos estudantes que se destaquem no concurso para trabalhar com a gente”, diz Azevedo. Como a escolha dos vencedores das competições do gênero costuma ser feita no segundo semestre de cada ano, a fase atual é a das inscrições. É hora de ficar de olho nas oportunidades.

Maurício Oliveira. *Estréia do diploma. In: Veja online*, 17/4/2002. *Internet*: <http://www2.uol.com.br/veja/idade/educacao/170402/p_112.html> (com adaptações).

QUESTÃO 7

Com relação às idéias do texto LP-III, julgue as associações propostas nos itens abaixo.

I Parágrafo 1

A maior oportunidade de recém-formados entrarem no mercado de trabalho é a inscrição nos concursos patrocinados por empresas interessadas em identificar novos talentos.

II Parágrafos 1 e 2

O caminho de jovens universitários e formados é árduo até encontrarem emprego; por isso eles ficam ansiosos por uma oportunidade no mercado de trabalho. É conveniente as empresas promoverem concursos para estudantes, com o que reforçam a imagem empresarial e a dos profissionais que atuarão no mercado de menos valia.

III Parágrafo 2

O patrocínio de concurso para estudantes costuma ser bom negócio para as empresas, pois tal estratégia reforça a imagem empresarial diante do mercado, a baixo custo: a divulgação e os prêmios. Algumas companhias já fazem isso.

IV Parágrafo 3

Algumas empresas têm interesse em estudantes que se destaquem pela originalidade das idéias, para trabalhar com elas; por isso, é hora de os estreates no mercado ficarem de olho nessas oportunidades.

V Texto inteiro

Um bom caminho para jovens ingressarem no mercado de trabalho pode ser a inscrição em concursos patrocinados por empresas em busca de novos talentos; por isso, se a escolha se dá no segundo semestre de cada ano, é conveniente estar atento a tais oportunidades.

VI Texto inteiro

O texto objetiva fazer um chamamento bilateral: aos jovens, para que estejam atentos às oportunidades que o mercado oferece a novos talentos; às empresas, para que contribuam, com a oferta de empregos, para minimizar o grave problema enfrentado atualmente, qual seja, o grande número de desempregados.

A quantidade de associações corretas é igual a

- A** 2. **B** 3. **C** 4. **D** 5. **E** 6.

QUESTÃO 8

Patrocinar um concurso para estudantes costuma ser bom negócio para a empresa. É uma estratégia eficaz para reforçar a imagem diante do mercado — e dos profissionais que atuarão nele — a um custo baixo. Os gastos se limitam à divulgação e aos prêmios. (...) Para algumas companhias, provocar a criatividade dos estudantes traz ganhos ainda mais práticos.

O trecho acima, correspondente ao segundo parágrafo do texto LP-III, permaneceria correto e manteria o sentido original, caso os termos nele sublinhados fossem substituídos, respectivamente, por

- A Bancar, útil, de pouca envergadura, cerceiam e formandos.
- B Propiciar, bom, insignificantes, reduzem e acadêmicos.
- C Provocar, mercadológico, mínimo, têm pouca importância e profissionais.
- D Produzir, favorável, econômica, conformam e formados.
- E Promover, eficiente, reduzido, resumem e universitários.

QUESTÃO 9

Assinale a opção cujo fragmento de texto está gramaticalmente correto.

- A Marcello Rodante, o advogado recém-formado, disse que o prêmio lhe abriu algumas portas e que vai continuar abrindo, pois passou a fazer parte de seu currículo.
- B Marcello, de 23 anos foi o vencedor da edição 2001, de um concurso de monografias de escritórios de advocacia muito respeitados no país.
- C Rodante, o exemplo mencionado escrevendo a cerca das controvérsias do novo Código Civil, passou pelo censura de uma comissão de especialistas.
- D O presidente da Alcoa Alumínio, Adjarma Azevedo disse que temos na firma, interesse em aproveitar realmente as idéias apresentadas pelos candidatos.
- E O prêmio bancado na empresa Alcoa é desenvolver produtos ligados às área da companhia; diz Azevedo que querem estudantes destacáveis, para trabalhar com a gente.

Opções adaptadas de Maurício Oliveira. *Estréia do diploma. In: Veja online.* 17/4/2002. Internet: <http://www2.uol.com.br/veja/idade/educação/170402/p_112.html>.

QUESTÃO 10

Assinale a opção correta quanto aos princípios de concordância e de regência.

- A Nosso interesse e preferência está em aproveitar as idéias apresentadas pelos candidatos mais jovens do que dos mais experientes.
- B Queremos, para trabalhar na empresa, os que se destacam, pela criatividade, dentre os demais.
- C A empresa visa o desenvolvimento de produtos aplicáveis a quaisquer áreas da companhia.
- D Devido a escolha dos vencedores ser feita no segundo semestre, a época das inscrições estão abertas.
- E Está na hora de ficar, senhores e senhoras interessados, de olhos abertos nas oportunidades.

LÍNGUA INGLESA

Text LI-I – questions 11 through 13

The priority environmental concerns in the San Francisco River Basin (SFRB) are thought to include soil loss, and contamination by organic pollutants and heavy metals, which will be systematically identified and quantified through the activities of this project. The SFRB is a very complex area, in which development has occurred in a historically haphazard and sectorized manner, with relatively little integrated planning, and within a relatively weak institutional framework. This has resulted in a less than optimal use of its water resources and degradation of the coastal zone, the root causes of which will be identified during the conduct of this project. Large stretches of river have been regulated, altering natural river flows that coincided with fish spawning periods. In addition, flow modifications have affected the deposition of sediments, nutrients and other contaminants in the system, altered erosion and deposition patterns, accelerated land degradation, and modified the delivery of nutrients to the lower reaches of the basin and the coastal zone. As a consequence, significant modifications in the freshwater, estuarine and marine fauna and flora have occurred.

Serious environmental problems identified in the upper sub-basin include the direct discharge of untreated municipal effluents, and industrial and mining effluents containing heavy metals and cyanides. In addition, there is widespread use of agro-chemicals, and deforestation is occurring on a large scale due to the demand for charcoal and the clearing of land for agricultural use and mining.

Internet: <<http://www.oas.org/usde/sanfrancisco.htm>> (with adaptations).

QUESTÃO 11

It can be deduced from text LI-I that

- I three main factors will be dealt with in the mentioned project.
- II the SFRB has been systematically cared for, in a duly identified sectorized way.
- III the use of SFRB water has been optimized for many years now.
- IV the SFRB needs more integrated planning.
- V it is necessary to strengthen the SFRB institutional framework.

The only true items are

- A I and II.
- B I and V.
- C II and III.
- D III and IV.
- E IV and V.

QUESTÃO 12

It can be concluded from text LI-I that

- A** the root cause of degradation has already been identified.
- B** the deposition of sediments has been removed.
- C** nutrients have contaminated the system.
- D** flow modifications have brought about some undesirable effects on the SFRB.
- E** never before had there been any land degradation.

QUESTÃO 13

From text LI-I, it can be deduced that

- I freshwater and marine floras have been markedly affected.
- II municipal liquid waste has caused considerable environmental problems.
- III industrial effluents are now under control.
- IV the presence of cyanides has been detected in the lower sub-basin.
- V the wide use of agro-chemicals is not so spread as it was thought to be.

The only true items are

- A** I and II.
- B** I and V.
- C** II and III.
- D** III and IV.
- E** IV and V.

Text LI-II – questions 14 and 15

Brazilian Nile, river of the national integration, old Chico, River of the Corrals. Regardless of the way it is called in the several regions it runs through, the San Francisco River is celebrating 500 years of discovery. When the navigator Amerigo Vespuccio discovered the river in October 4th 1501, he did not know that it was the beginning of miscellaneous costumes, beliefs, people, arts and legends that are inextricably linked to the Brazilian History. After five centuries, the level of degradation that the river is found portrays the way the country administrates its natural resources that, although in abundance, may end one day.

The San Francisco River, which has an extension 2.7 thousand km², runs through five Brazilian states: Minas Gerais, Bahia, Pernambuco, Alagoas and Sergipe, from its spring in São Roque de Minas, down to the river mouth in the Atlantic Ocean, at the border of Sergipe and Alagoas states. There are more than 500 cities served by the river basin where 14 million people live, a population larger than that of many countries like Cuba, Sweden, Chile and Paraguay.

Internet: <<http://www.ecolatina.com.br/ambientec/ed04-english/int-chico.html>> (with adaptations).

QUESTÃO 14

The San Francisco River

- I can be compared to another river.
- II was discovered in the 15th century.
- III played an important role in the Brazilian History.
- IV represents an incomprehensible mixture in the Brazilian culture.
- V abundance may never end.

The only true items are

- A** I and II.
- B** I and III.
- C** II and IV.
- D** III and V.
- E** IV and V.

QUESTÃO 15

From text LI-II, it can be deduced that

- A** the San Francisco River runs through the most important Brazilian states.
- B** the San Francisco runs along the border of five Brazilian different states.
- C** more people live within the SFRB than in some countries.
- D** the San Francisco River flows from north to south of Brazil.
- E** there are lots of other totally Brazilian rivers as long as the San Francisco River.

CONHECIMENTOS DE INFORMÁTICA

Nas questões de 16 a 20, a menos que seja explicitamente informado o contrário, considere que todos os programas mencionados estão em configuração-padrão, em português; que o *mouse* está configurado para pessoas destros e que expressões como clicar, clique simples e clique duplo referem-se a cliques com o botão esquerdo do *mouse*. Considere também que não há restrições de proteção e de uso em relação aos programas, arquivos, diretórios e equipamentos mencionados.

QUESTÃO 16

Em uma sessão de uso do Internet Explorer 5, executado em um computador cujo sistema operacional é o Windows 98, um usuário, interessado em obter informações acerca de editais de licitações existentes no *site* da CHESF, obteve a página *Web* ilustrada na figura ao lado. Com base nessa figura e com relação ao Internet Explorer 5 e ao Windows 98, julgue os itens a seguir.

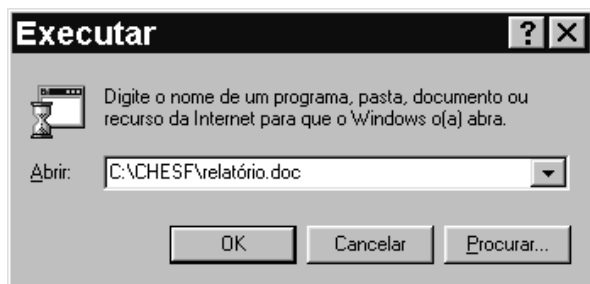



- I É correto concluir que o URL (*uniform resource locator*) indicado no campo **Endereço** não representa o endereço da página *Web* mostrada, pois este URL não possui a estrutura correta de um endereço de Internet. Dessa forma, caso o cursor do *mouse* esteja no campo **Endereço**, ao se teclar **Enter**, o Internet Explorer 5 não será capaz de encontrar a página solicitada e exibirá uma mensagem de erro.
- II Apesar de o Internet Explorer 5 não constituir um *software* de correio eletrônico, mas sim um *browser*, é possível acessar recursos de *e-mail* por meio da lista de opções disponibilizada ao se clicar o botão **Correio**.
- III Uma das evoluções encontradas no Internet Explorer 5 com relação a seus predecessores está relacionada à implementação da funcionalidade acessada por meio do botão **Imprimir**: ao se clicar esse botão, tanto a página mostrada quanto todas aquelas acessíveis por meio de *hyperlinks* existentes nessa página e nas páginas subseqüentes, que pertençam exclusivamente ao mesmo *site*, são impressas, o que facilita a impressão de informações que normalmente estão distribuídas em diversas páginas de um *site*. Esse recurso deve ser previamente configurado por meio das opções encontradas no menu **Ferramentas**.
- IV Muitos *sites* disponibilizam atualmente a seus usuários o que se denomina sala de bate-papo ou sala de discussão, que pode ser normalmente acessada a partir de *hyperlinks* dispostos nas páginas *Web* de um *site*. Para facilitar esse acesso, o Internet Explorer 5 é capaz de identificar a existência desse recurso em um determinado *site* e, por meio de um clique simples sobre um botão especialmente desenvolvido para essa funcionalidade, permite que o usuário acesse uma página de discussão do *site*. Com base na figura acima, é correto concluir que a página mostrada pertence a um *site* que possui recursos de sala de discussão. Assim, ao se clicar o botão **Discussão**, automaticamente o Internet Explorer 5 permitirá ao usuário o acesso ao referido recurso desse *site*.
- V É correto concluir que, ao se clicar o botão **Voltar** ou o botão **Avançar**, páginas previamente acessadas na sessão de uso do Internet Explorer 5 mencionada acima podem novamente ser visualizadas. É possível configurar o Internet Explorer 5 para que páginas previamente acessadas em uma determinada sessão não sejam carregadas a cada nova solicitação de acesso, economizando assim tempo de *download*, principalmente se o acesso for do tipo *dial-up*, no qual, normalmente, o tempo de uso de uma conexão é tarifado por operadora local de telefonia como uma ligação de telefone.



Estão certos apenas os itens

- A** I e II. **B** I e III. **C** II e V. **D** III e IV. **E** IV e V.

QUESTÃO 17

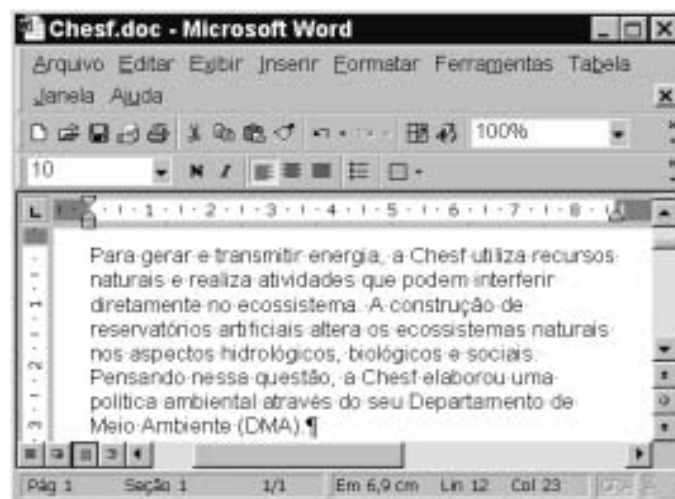


A figura acima ilustra a janela de um aplicativo muito utilizado do Windows 98. No computador em que esse aplicativo está sendo executado, existe, no diretório C:\CHESF, um arquivo denominado relatório.doc, que contém um documento do tipo Word 2000, *software* este que se encontra instalado no referido computador. Nessas circunstâncias, ao se clicar o botão  o Windows 98

- Ⓐ acusará erro de execução, pois C:\CHESF\relatório.doc não constitui um programa executável.
- Ⓑ abrirá uma janela do Word 2000 que mostrará em sua área de trabalho o documento armazenado no arquivo relatório.doc.
- Ⓒ abrirá uma janela do Word 2000 com um documento em branco. Caso se deseje visualizar o documento armazenado no arquivo relatório.doc, deve-se realizar procedimento específico de abertura de documentos do Word 2000.
- Ⓓ abrirá uma janela do Windows Explorer, cujo campo  estará indicando o diretório C:\CHESF, e cujo conteúdo, no qual o arquivo relatório.doc está inserido, estará sendo mostrado.
- Ⓔ abrirá uma janela do WordPad, aplicativo-padrão associado ao *software* , em cuja área de trabalho estará sendo mostrado o conteúdo do arquivo relatório.doc. É normal que, na conversão do padrão Word 2000 para o do WordPad, parte do conteúdo e da formatação do documento armazenado no arquivo relatório.doc seja perdida.







Texto CI – questões 18 e 19

Na figura abaixo, observa-se uma janela do aplicativo Word 2000 com um documento em processo de edição.




QUESTÃO 18

Com base na figura incluída no texto CI e acerca do Word 2000, assinale a opção correta.

- Ⓐ Para se envolver a palavra “Chesf” com uma moldura, é suficiente clicar sobre essa palavra e, a seguir, clicar no botão .
- Ⓑ Para se inserir uma marca de tabulação no início do parágrafo mostrado na figura, é suficiente clicar imediatamente antes de “Para”, pressionar e manter pressionada a tecla  e, a seguir, teclar .
- Ⓒ Caso se clique na barra de título da janela mostrada com o botão direito do *mouse*, será disponibilizada uma lista de opções, entre as quais Salvar e Imprimir.
- Ⓓ Para se excluir do texto a palavra “artificiais”, é suficiente aplicar um clique duplo sobre essa palavra e, a seguir, clicar em .
- Ⓔ Caso se deseje inserir, no documento Chesf.doc, o conteúdo de um arquivo armazenado em disquete contendo um texto em Word 2000, é suficiente, no ponto de inserção desejado, clicar em ; na lista de documentos que será mostrada, selecionar o arquivo desejado; clicar .

QUESTÃO 19

Julgue os itens a seguir, relativos à figura do texto CI e ao Word 2000.

- I O Word 2000 tem um recurso denominado pasta de recuperação, utilizado para armazenar no disco rígido do computador partes selecionadas de diferentes documentos que se deseja reunir em um único arquivo.
- II Ao se clicar em , o documento Chesf.doc será fechado, depois de todas as modificações realizadas serem salvas, e será aberto um novo documento em branco.
- III Caso se queira inserir um cabeçalho no documento, é necessário acessar uma janela específica para digitar o texto desejado para o cabeçalho. Para isso, é suficiente clicar na opção Cabeçalho, no menu **Inserir**.
- IV Para se selecionar todo o parágrafo do documento mostrado na figura, é suficiente pressionar e manter pressionado o botão esquerdo do *mouse* sobre a palavra “Para”; arrastar o cursor até o ponto final desse parágrafo e, a seguir, liberar o botão do *mouse*.
- V Caso se deseje verificar como ficará a impressão do documento, é suficiente clicar a opção Visualizar impressão, no menu **Arquivo**.






Estão certos apenas os itens

- ☐ A I e II. ☐ C II e V. ☐ E IV e V.
☐ B I e III. ☐ D III e IV.

QUESTÃO 20



A figura acima mostra uma janela do Excel 97, com uma planilha que está sendo elaborada, contendo o consumo mensal de energia elétrica, em kWh, de três residências, em um período de três meses. Com relação a essa figura e ao Excel 97, assinale a opção correta.

- A Considerando que o tamanho de fonte utilizada nas células A3, A4 e A5 é igual a 10, para se alterar esse tamanho para 12, é suficiente selecionar as referidas células e alterar o número 10, em , para 12.
- B Para se calcular a média de consumo diário da “residência 1” no mês de janeiro e pôr o resultado na célula E3, é suficiente realizar a seguinte sequência de ações: clicar a célula E3; digitar B3:31; teclar .
- C Para se sublinhar os conteúdos das células B2, C2 e D2, é suficiente selecioná-las e clicar .
- D Para se calcular o aumento percentual no consumo da “residência 3”, do mês de fevereiro para o mês de março, e pôr o resultado na célula E5, é suficiente selecionar as células C5 e D5 e, em seguida, clicar .
- E Supondo que o valor cobrado para cada kWh seja igual a R\$ 0,22, para calcular o valor a ser pago pelo responsável pela “residência 3” no mês de março e pôr o resultado na célula E5, é suficiente realizar a seguinte sequência de ações: clicar na célula E5; digitar D5 x 0,22; teclar .

CONHECIMENTOS GERAIS

QUESTÃO 21

Na virada do século XX ao XXI, um dos grandes modismos concentrou-se na chamada globalização, apesar de há muito os historiadores tratarem de outras, muito anteriores: toda civilização, produto de uma ou mais culturas, tende a transbordar ao criar seu ecúmeno, seu universo de interior a exterior. A lista é grande, vem da China à Índia, às principais cidades gregas, a Roma, aos mongóis, aos muçulmanos de início árabes, a Portugal, Espanha, Holanda, França, Grã-Bretanha, EUA entre os séculos XX e XXI, em escala mundial, outros em seus espaços contíguos ou de relativamente curta duração, como a Rússia sob a capa de União das Repúblicas Socialistas Soviéticas (URSS), entre muitos mais. O próprio Brasil nasceu em meio à globalização ibérica do século XVI.

Vamireh Chacon. **Muitos globalizados, poucos globalizadores.**
In: **UnB Revista**, Ano II, n.º 6, p. 56 (com adaptações).

Com o auxílio do texto acima, assinale a opção **incorreta**.

- A Pelo que se depreende da leitura do texto, o autor partilha da tese de que a atual globalização integra um processo histórico de longa duração, não sendo, pois, uma criação inédita da economia capitalista contemporânea.
- B A expansão comercial e marítima europeia dos séculos XV e XVI teve nos países da Península Ibérica seus pioneiros condutores e, entre suas consequências mais notáveis, está a abertura do Oriente ao comércio europeu.
- C O Brasil — como, de resto, todo o continente americano — aparece aos olhos da chamada Civilização Ocidental como resultado da expansão ibérica do início da Idade Moderna; assim, sua colonização deu-se nos quadros do nascente capitalismo de base mercantil.
- D A Revolução Industrial, iniciada na Grã-Bretanha em meados do século XVIII, consolidou o capitalismo como sistema econômico dominante no Ocidente, alterou profundamente as relações de produção e a configuração da sociedade; por isso, sob o ponto de vista material, é considerada marco fundador do mundo contemporâneo.
- E O imperialismo, cujo grande impulso se deu a partir de meados do século XIX, em muitos aspectos identifica-se com o neocolonialismo e, com exceção da África e de parte do continente asiático, que ficaram à margem, estendeu o capitalismo a diversas partes do planeta, em um processo de mundialização da economia.

QUESTÃO 22

O curso das duas décadas que vinculam o ano de 1947 ao de 1968, no âmbito das relações internacionais, foi ditado pela supremacia de dois gigantes sobre o mundo. Os EUA e a URSS assenhoraram-se dos espaços e criaram um condomínio de poder que só foi abalado no final da década de 60 e início da de 70. Existiram, no entanto, nuances no sistema condominial de poder. Da relação *quente* da Guerra Fria (1947-1955) à lógica da coexistência pacífica (1955-1968), as duas superpotências migraram da situação de desconfiança mútua para uma modalidade de convivência tolerável.

José Flávio Sombra Saraiva. **Relações Internacionais: dois séculos de história** -v. II (org.). Brasília: FUNAG/IBRI, 2001, p. 19 (com adaptações).

Tendo o texto acima por referência, julgue os itens que se seguem.

- I A trajetória da Guerra Fria foi marcada por acentuada linearidade, sem alterações significativas ao longo do período, ainda que Washington e Moscou tenham, algumas vezes, *migrado* de posição.
- II O que o autor chama de “sistema condominial” de poder é geralmente conhecido como bipolaridade ou sistema bipolar, que, tendo origem no seio da Segunda Guerra Mundial, correspondeu à ordem internacional da Guerra Fria.
- III Em sua fase inicial, entre fins da década de 40 e a primeira metade da seguinte, a Guerra Fria foi assinalada pela corrida atômica, que, demonstrando às duas superpotências a avassaladora capacidade destrutiva que carregavam, acabou por conduzir às negociações para um sistema de segurança mundial assentado no equilíbrio das armas nucleares.
- IV O ano de 1968 foi emblemático, sob os mais variados sentidos: enquanto as manifestações de rua, no mundo ocidental, quebravam certezas e abalavam convicções — sendo que, nos EUA, a contestação dirigiu-se sobretudo à Guerra do Vietnã —, na área de influência soviética os problemas também não eram pequenos, como se comprova pela dimensão da Primavera de Praga.
- V Desaparecida a URSS e esgotado o modelo de “socialismo real” na Europa Oriental, não há mais sentido falar em Guerra Fria; todavia, aqui e acolá, resquícios permanecem, como exemplificam os casos da Coréia dividida e das relações dos EUA com Cuba.

A quantidade de itens certos é igual a

- A** 1. **B** 2. **C** 3. **D** 4. **E** 5.

QUESTÃO 23

A sociedade do conhecimento e da informação difunde-se e aprofunda-se em todo o mundo. Não há limites para esse avanço. Para que possam cumprir uma missão social maior, devem libertar-se os que se encontram presos a um passado que não cabe mais no presente e muito menos no inexorável futuro, o qual chega cada vez mais rapidamente e cujas feições perceptíveis já se mostram sedentas por informações mais rápidas e por novos saberes. Sem boas e verdadeiras universidades, não alcançaremos a sociedade do conhecimento e da informação. Que venha a autonomia; que venha uma nova universidade pública!

Lauro Morhy. **Universidades: É preciso andar mais rápido!**
In: **UnB Revista**, Ano II, n.º 6, p. 121 (com adaptações).

A partir do texto acima, assinale a opção **incorreta**.

- A** A “sociedade da informação” e do conhecido a que alude o texto é a que, de maneira geral, mas não uniforme, caracteriza o mundo contemporâneo, resultante das profundas transformações materiais que o século XX produziu e que, sobretudo a partir de suas últimas décadas, assentaram-se em uma verdadeira revolução tecnológica.
- B** Os novos paradigmas que presidem o atual sistema produtivo em escala global permitem que se fale em preparo educacional e cultural de um país como algo tão ou mais importante que suas eventuais riquezas físicas.
- C** No estágio atual da economia, em que os “novos saberes” e a inteligência — como lembra o autor — são a nova fonte de riqueza, pode-se dizer que o sistema educacional brasileiro tem conseguido responder satisfatoriamente aos desafios que lhe são impostos, de que a quase universalização do ensino fundamental seria bom exemplo.
- D** Nessa atual “era do conhecimento”, o dilema que se coloca diante das sociedades — especialmente naquelas que estão defasadas em relação às mais desenvolvidas — é o da escolha entre apartar-se do desenvolvimento, mergulhando em um quadro de inexorável exclusão, ou implementar um plano integrado de desenvolvimento, dedicando atenção especial à educação, ciência e tecnologia.
- E** Pelo que diz o texto e, particularmente, levando-se em conta seu título, infere-se que, para acompanhar as exigências do novo tempo em que se vive hoje, as universidades são peça decisiva para que o país se sintonize com a nova realidade; para tanto, elas devem ser autônomas, ágeis e competentes.

QUESTÃO 24

A “revolução de 30” inaugurou uma etapa decisiva do processo de constituição do Estado brasileiro como um Estado nacional, capitalista e burguês. A quebra das autonomias estaduais — suporte das tradicionais oligarquias regionalizadas — resultou na crescente centralização do poder que alocava no Poder Executivo federal os comandos sobre as políticas econômica e social e o aparelho coercitivo-repressivo. Constituiu-se o poder do Estado como poder unificado e genérico, representativo do “interesse geral” em sua concretude. Apesar de iniciado no imediato pós-30, o marco na aceleração desse processo foi a instauração do Estado Novo, em 1937.

Sônia Regina de Mendonça. *As bases do desenvolvimento capitalista dependente: da industrialização restringida à internacionalização*. In: Maria Yedda Linhares (org.). *História geral do Brasil*. Rio de Janeiro: Campus, 1996, p. 282 (com adaptações).

Considerando o texto acima, julgue os itens seguintes, relativos à história política brasileira no período republicano.

- I Ao usar aspas para citar o movimento armado que depôs o presidente Washington Luís, a autora dá a entender também que concorda com aqueles que questionam o caráter revolucionário de 1930.
- II A República Velha foi marcada pelo domínio das oligarquias estaduais, cujo poder se assentava, entre outros aspectos, no clientelismo e nas eleições fraudadas; a partir de 1930, assiste-se à implantação da hegemonia do governo central, que será a tônica da história republicana doravante.
- III A Era Vargas, de maneira geral, correspondeu à modernização das instituições político-administrativas do Brasil, mas, sob o ponto de vista econômico, à reafirmação da vocação agrária do país, desperdiçando-se as oportunidades de industrialização que a Segunda Guerra Mundial trouxera.
- IV O Estado Novo (1937-1945) foi o período em que Vargas consolidou, interna e externamente, sua imagem de grande estadista: ainda que suprimidas as eleições presidenciais, o regime se abre politicamente, até mesmo como meio de não ser confundido com o totalitarismo nazifascista existente à época.
- V O regime liberal-democrático-conservador, que vigorou entre 1946 e 1964, foi marcado por baixas taxas de crescimento econômico, ausência de crises políticas mais pronunciadas e, em termos de política internacional, imune às circunstâncias próprias da Guerra Fria.

Estão certos apenas os itens

- | | | |
|-------------------|-------------------|------------------|
| A I e II. | C II e IV. | E IV e V. |
| B I e III. | D III e V. | |

QUESTÃO 25

Em 2002, a cena política mundial, notadamente a européia, apresenta motivos de inquietação para os que acreditam nos valores democráticos. A respeito desse quadro, em que eleições propiciam a emergência de posições extremadas, à direita e à esquerda, assinale a opção **incorreta**.

- A** Pelo menos duas consequências podem ser creditadas aos acontecimentos de 11 de setembro de 2001: mostraram que o terrorismo político também se globalizou, atingindo dimensão até então inimaginável, e enrijeceram ainda mais as posições já conservadoras do governo George W. Bush.
- B** Nas eleições francesas, a diminuta diferença de votos a favor de Jacques Chirac sobre Le Pen, no segundo turno, explicitou a perfeita divisão que faz da França, hoje, um país dividido em duas nações.
- C** Pode-se falar, na Europa dos dias atuais, da existência de uma onda direitista, como se verificou nas eleições em diversos países, como Áustria, Dinamarca, Portugal, Holanda e Itália.
- D** Para muitos analistas, a posição assumida por eleitores europeus reflete o fracasso dos governos social-democratas, os quais, a despeito de alguns êxitos, acabaram por sucumbir, sob muitos aspectos, ante o ideário neoliberal.
- E** O discurso direitista europeu tem assumido tom crescentemente agressivo, em especial na defesa de um nacionalismo xenófobo, que também se traduz na insistente oposição aos imigrantes, o que acaba por desvelar uma posição racista.

CONHECIMENTOS ESPECÍFICOS

QUESTÃO 26

À luz do Código Civil Brasileiro (Lei n.º 3.071/1916) e da doutrina, julgue os itens abaixo.

- I A personalidade civil do homem começa com a concepção.
 - II A personalidade civil da pessoa jurídica inicia-se com a elaboração de seu ato constitutivo.
 - III Segundo a classificação do Código Civil e da Constituição da República de 1988, os rios de águas doces do Brasil são bens públicos dominicais.
 - IV Representação e assistência são institutos jurídicos idênticos.
- A primeira aplica-se aos relativamente incapazes, e a segunda, aos absolutamente incapazes.

A quantidade de itens certos é igual a

- A** 0. **B** 1. **C** 2. **D** 3. **E** 4.

QUESTÃO 27

Com base no que dispõe o Código Civil vigente quanto às obrigações, julgue os itens subsequentes.

- I Nas obrigações alternativas, em regra, a escolha cabe ao devedor.
- II As obrigações de fazer sempre serão personalíssimas, não podendo ser executadas por terceiros.
- III Nas obrigações de dar coisa incerta, a obrigação extinguir-se-á pelo perecimento da coisa, antes da escolha feita pelo devedor, na hipótese de força maior.
- IV Nas obrigações alternativas, se todas as prestações se tornarem impossíveis, sem culpa do devedor, extinguir-se-á a obrigação.

A quantidade de itens certos é igual a

- A** 0. **B** 1. **C** 2. **D** 3. **E** 4.

QUESTÃO 28

Carlos, corretor de imóveis, casado com Maria, empregada doméstica, encontrava-se recolhido no estabelecimento prisional da cidade XZ desde 1999, por ter cometido crime de tráfico de drogas. Em janeiro de 2002, Carlos passou a ser ameaçado de morte por alguns prisioneiros. O diretor do presídio, sabendo das ameaças, nada fez para trocar Carlos de cela ou garantir-lhe proteção. Dez dias após o diretor ter sido informado das ameaças, Carlos foi executado por outros dois detentos, líderes do tráfico de drogas na cidade XZ e condenados a 12 anos e a 8 anos de prisão, respectivamente.

Considerando essa situação hipotética, assinale a opção correta relativa à Constituição da República e à jurisprudência predominante do Supremo Tribunal Federal (STF).

- A** De acordo com a jurisprudência predominante do STF, Maria, esposa de Carlos, poderá recorrer à justiça para pleitear pensão mensal, considerando a atividade profissional que Carlos exercia quando em liberdade, em razão de omissão do estado por parte de seus agentes penitenciários.
- B** Segundo a jurisprudência predominante do STF, não poderá Maria pleitear indenização por danos morais, uma vez que não cabe tal tipo de indenização em face da omissão do estado.
- C** Com base na Constituição da República, Maria, como empregada doméstica, tem direito a repouso semanal remunerado, preferencialmente aos domingos, mas não faz jus ao aviso prévio proporcional ao tempo de serviço.
- D** Conforme a Constituição da República, é correto afirmar que o crime cometido por Carlos, tráfico ilícito de entorpecentes, é considerado inafiançável e insuscetível de graça ou anistia, com pena de trabalho forçado, não sendo admitida a pena de caráter perpétuo.
- E** Cabe ao presidente da República a edição de medidas provisórias acerca de matéria relativa a cidadania e direitos políticos, sendo vedadas as relativas a direito penal, processo penal e organização do Poder Judiciário.

QUESTÃO 29

À luz da Constituição da República e da jurisprudência predominante do STF, assinale a opção **incorreta**.

- Ⓐ Em conformidade com a jurisprudência predominante do STF, é reconhecido às pessoas jurídicas o direito a indenização por danos morais em razão de fato considerado ofensivo a sua honra.
- Ⓑ O recurso extraordinário, previsto na Constituição da República, é cabível contra decisão proferida em processo de natureza administrativa em última ou única instância, sendo, ainda, espécie de controle difuso de constitucionalidade, segundo jurisprudência predominante do STF.
- Ⓒ Considere a seguinte situação hipotética.
A CHESF divulgou a realização de concurso público para provimento de vagas para o cargo de advogado e exigiu, como requisito para inscrição, a idade mínima de 25 anos de idade. Nesse caso, segundo a jurisprudência predominante do STF, para o estabelecimento desse limite de idade, é necessária a expressa previsão legal, não bastando a referência no edital.
- Ⓓ Segundo a Constituição da República, a União poderá intervir nos estados e no Distrito Federal para assegurar a observância do princípio constitucional dos direitos da pessoa humana e do sistema representativo.
- Ⓔ De acordo com a linha da jurisprudência predominante do STF, o controle abstrato de lei ou ato normativo municipal somente é admitido em face da constituição estadual, perante o Tribunal de Justiça.

QUESTÃO 30

A letra de câmbio é título de circulação. A circulação é transferência de domínio da letra de câmbio de um proprietário para outro. Circulam, na verdade, não só o título, mas também os direitos e obrigações nele incorporados. Em regra, não se separam o documento e o crédito nele representado. O meio de circulação comumente utilizado denomina-se endosso. Acerca do endosso em letra de câmbio, assinale a opção **incorreta**.

- Ⓐ O endosso pode consistir na mera assinatura do proprietário da letra, no verso ou anverso do título ou em uma folha ligada à letra de câmbio.
- Ⓑ O endossante, salvo cláusula em contrário, é quem garante tanto a aceitação quanto o pagamento da letra.
- Ⓒ O endossante não pode subordinar o endosso a nenhuma condição. Se assim vier a proceder, considerar-se-á tal condição como não-escrita.
- Ⓓ O endosso pode ser total ou parcial e pode ser feito a favor do sacado, do sacador ou de qualquer outro coobrigado.
- Ⓔ O endosso posterior ao vencimento tem os mesmos efeitos que o endosso anterior; todavia, o endosso posterior ao protesto, ou feito depois de expirado o prazo para o protesto, produz apenas os efeitos de uma cessão ordinária de crédito.

QUESTÃO 31

As atividades econômicas foram, ao longo do tempo, tornando-se cada vez mais complexas e diversificadas, exigindo do homem maiores investimentos e diferentes capacitações. Para superar esses obstáculos, foi necessária a união de esforços dos vários agentes interessados, sobretudo, nos lucros que tais atividades propiciam. Dessa articulação, surgiram as sociedades comerciais. Acerca dessas sociedades, assinale a opção **incorreta**.

- Ⓐ As sociedades comerciais são, em regra, personalizadas, isto é, são pessoas distintas de seus sócios, dispõem de patrimônio próprio e titularizam seus próprios direitos e obrigações.
- Ⓑ No direito nacional, a sociedade brasileira é aquela com sede no Brasil, constituída de acordo com a legislação brasileira, cujo sócio majoritário seja brasileiro nato ou naturalizado.
- Ⓒ Em virtude do princípio da autonomia patrimonial, os sócios respondem, subsidiariamente e em algumas situações específicas, pelas obrigações da sociedade.
- Ⓓ Segundo a lei brasileira, o início da personalidade jurídica das sociedades comerciais opera-se com o registro dos atos constitutivos na junta comercial.
- Ⓔ De acordo com o critério que considera o grau de dependência da sociedade em relação às qualidades subjetivas dos sócios, a doutrina classifica as sociedades comerciais em sociedades de pessoas e sociedades de capital. Nas primeiras, a pessoa do sócio é mais importante que a contribuição material que este dá para a sociedade. Nas últimas, ocorre o inverso.

QUESTÃO 32

Acerca da competência e dos prazos processuais, assinale a opção correta.

- Ⓐ Se a União ingressar como litisconsorte em ação que tramita perante o juízo estadual, a competência deste prorrogar-se-á caso nenhuma das partes interponha exceção de incompetência no prazo de quinze dias.
- Ⓑ Se o Estado for demandado em comarca que não seja sede de vara da fazenda pública, o juiz deverá, de ofício ou a requerimento da parte interessada, determinar a remessa dos autos à capital do estado ou à comarca mais próxima que seja sede de vara da fazenda pública, pois somente esta é competente para processar o feito.
- Ⓒ Se o juiz, ao sentenciar o feito, entender que a lei aplicável ao caso é inconstitucional, será obrigado a aplicá-la, se não houver decisão do STF declarando a sua inconstitucionalidade, em ação direta de inconstitucionalidade (ADIN).
- Ⓓ No curso de execução trabalhista, se o juiz determinar a penhora de imóvel pertencente a terceiro, este deverá defender-se da constrição judicial por embargos de terceiros, perante a justiça do trabalho.
- Ⓔ Somente nos processos de conhecimento que seguem o rito ordinário se verifica, em favor da fazenda pública, a quadruplicação do prazo para contestar e a duplicação do prazo para recorrer.

QUESTÃO 33

Em relação à intervenção de terceiros, prova e recurso, julgue os itens que se seguem.

- I Se, em ação de cobrança, havendo vários fiadores da dívida cobrada, apenas um deles for demandado, poderá este promover o chamamento ao processo dos demais fiadores.
- II Apenas a parte a quem cabe o ônus de provar determinado fato tem legitimidade para requerer ao juiz da causa a sua produção.
- III O Ministério Público tem legitimidade para propor ação civil pública em defesa do patrimônio histórico, mas não tem legitimidade para propor ação popular visando a anulação de ato lesivo ao patrimônio público.
- IV A decisão do juiz de primeiro grau que admite o recurso de apelação é irrecorrível.
- V O ato judicial que indefere a petição inicial antes da citação do réu somente pode ser impugnado por agravo de instrumento.

A quantidade de itens certos é igual a

- A** 1. **B** 2. **C** 3. **D** 4. **E** 5.

QUESTÃO 34

Assinale a opção **incorreta**.

- A** Será inconstitucional qualquer proposta de emenda que pretenda reduzir o prazo para a cobrança das contribuições para a seguridade social, que atualmente é de noventa dias, a contar da data da publicação da lei que as institui.
- B** A União Federal tem competência para instituir e cobrar as contribuições parafiscais, com exceção das incidentes sobre os vencimentos dos servidores públicos estaduais e municipais, para custeio, em benefício destes, de sistema de previdência e de assistência social.
- C** Por força da imunidade governamental recíproca, os bens, os serviços e as rendas da CHESF são imunes à incidência de impostos, desde que utilizados nas funções essenciais da entidade.
- D** O somatório de bens e rendas de qualquer natureza, incluídos os haveres gravados por ônus real ou cláusula de inalienabilidade ou de impenhorabilidade, pertencentes ao sujeito passivo, seu espólio ou sua massa falida, respondem pelo pagamento do crédito tributário.
- E** Para suspender a exigibilidade do crédito tributário, o sujeito passivo da obrigação tributária deve depositar o montante integral do valor devido em moeda, não podendo oferecer bens ou títulos da dívida pública.

QUESTÃO 35

Assinale a opção **incorreta**.

- A** A obrigação tributária principal nasce com a ocorrência do fato gerador, tem por objeto o pagamento de tributo ou a penalidade pecuniária e extingue-se com o crédito dela decorrente.
- B** No chamado sistema de substituição tributária para frente, o imposto pode ser exigido do sujeito passivo em momento anterior à ocorrência do fato gerador da obrigação principal.
- C** Cabe à União, por lei complementar, definir o fato gerador, a base de cálculo e os sujeitos passivos do Imposto Sobre a Propriedade Predial e Territorial Urbana (IPTU), cabendo aos municípios a fixação de alíquotas aplicáveis, as quais podem ser progressivas em razão do valor do imóvel.
- D** A compensação de créditos tributários pode ser deferida por medida liminar, desde que prestada caução para a garantia do ressarcimento aos cofres públicos dos tributos compensados, no caso de improcedência da ação principal.
- E** Os impostos são tributos não-vinculados por excelência, embora sua receita possa servir de garantia para operações por antecipação de receita ou ser destinada a ações e serviços públicos de saúde.

QUESTÃO 36

Por meio de negociação coletiva de trabalho, sindicatos de determinadas categorias profissionais e econômicas introduziram diversas vantagens adicionais a serem aplicadas aos contratos de trabalho dos sujeitos representados e ainda às relações entre as empresas representadas e o sindicato profissional pactuante. Com referência a esse assunto e à luz da legislação vigente, assinale a opção correta.

- A** A contribuição prevista para o sindicato profissional pelos empregadores em convenção coletiva de trabalho, tendo como fato gerador o trabalho prestado pelos empregados, sindicalizados ou não, em dia considerado feriado público nacional, é perfeitamente lícita e pode ser objeto de cobrança perante os órgãos da Justiça do Trabalho.
- B** Em caráter excepcional, por aplicação da teoria do conglobamento, é lícita a contratação coletiva sem prévia aprovação da assembléia geral da categoria profissional representada, desde que não exista oposição do sindicato econômico correspondente.
- C** É lícita a cláusula normativa que estabelece em favor do sindicato profissional o pagamento de contribuições assistenciais pelo empregado contratado, durante a vigência do contrato de trabalho, independentemente da condição de sindicalizado.
- D** De acordo com o princípio da autonomia coletiva de vontade e à luz da teoria do conglobamento, aos sindicatos convenientes é possível a pactuação de regras próprias e específicas que objetivem regular o instituto da estabilidade dos dirigentes sindicais da categoria profissional representada.
- E** De acordo com a Constituição da República, é perfeitamente válida a introdução, em convenção coletiva de trabalho, de jornadas de trabalho exclusivas e especiais para trabalhadores portadores de deficiência física, em parâmetros diversos daqueles previstos pela legislação em vigor, com repercussão proporcional sobre o padrão salarial praticado.

QUESTÃO 37

A propósito dos procedimentos observados nas ações perante a Justiça do Trabalho, assinale a opção **incorreta**.

- Ⓐ A ausência do reclamante à audiência importa em extinção do processo sem exame do mérito, por ausência de pressuposto de desenvolvimento válido e regular da relação jurídica processual, salvo se já tiver sido contestada a reclamatória, caso em que a confissão ficta apenas será aplicada se tiver havido prévia e expressa intimação para prestar depoimento sob tal cominação.
- Ⓑ A ausência do reclamado à audiência, quando ainda não instalada a *litis contestatio*, configura revelia e confissão ficta, sendo, porém, facultado ao juiz, na ocorrência de motivo relevante, o adiamento daquele ato processual.
- Ⓒ Nas ações cujo valor seja igual ou inferior a quarenta salários mínimos, em que o número máximo de testemunhas é de duas para cada parte, os pedidos devem ser certos ou determinados, cabendo ao autor, sob pena de arquivamento, indicar os valores correspondentes.
- Ⓓ Ao empregador é facultado fazer-se substituir na audiência pelo gerente ou qualquer outro empregado que tenha conhecimento dos fatos do dissídio, cujas declarações o obrigarão para todos os efeitos.
- Ⓔ Proposta a ação, a notificação endereçada ao reclamado para comparecer à audiência deverá ocorrer com prazo mínimo de dez dias antes da data designada. Se não for encontrado ou criar embaraços ao seu recebimento, será notificado por edital.

QUESTÃO 38

A propósito das ações e recursos na Justiça do Trabalho, assinale a opção correta.

- Ⓐ Contra a decisão incidental que rejeita a exceção de incompetência territorial oferecida cabe, à parte demandada, a interposição de recurso ordinário, já que o agravo de instrumento tem vocação estrita para as decisões denegatórias do trânsito de recursos.
- Ⓑ As decisões concessivas de pedidos de antecipação dos efeitos da tutela, de natureza interlocutória, autorizam o ajuizamento de ação cautelar perante o órgão jurisdicional competente para o reexame da futura decisão de mérito a ser proferida.
- Ⓒ No âmbito dos tribunais regionais do trabalho, os embargos infringentes apenas serão admissíveis quando a decisão proferida por órgão fracionário não for proferida à unanimidade.
- Ⓓ Nas ações propostas sob o rito sumaríssimo, o recurso de revista apenas será admitido quando a decisão regional contrariar súmula da jurisprudência uniforme do Tribunal Superior do Trabalho ou for proferida com violação direta à Constituição da República.
- Ⓔ O agravo de petição é cabível contra as decisões proferidas nas execuções, em qualquer circunstância, ainda quando ostentem natureza interlocutória.

QUESTÃO 39

Em cada uma das opções abaixo, é apresentada uma situação hipotética seguida de uma assertiva a ser julgada.

- I Caetano foi condenado à pena privativa de liberdade de três anos de reclusão, a ser cumprida em regime aberto, por ter praticado o crime de furto qualificado. Na época da prolação da sentença penal, estava em vigor a Lei n.º 1.000, que somente permitia a substituição de pena privativa de liberdade por restritivas de direitos quando a sanção reclusiva fosse inferior a um ano. Na fase executiva, entrou em vigor a Lei n.º 2.000, admitindo a substituição de pena privativa de liberdade por restritivas de direitos, quando não superior a quatro anos, desde que o crime não tivesse sido cometido com violência ou grave ameaça à pessoa. Nessa situação, caberá ao juiz da execução aplicar em favor de Caetano a Lei n.º 2.000.
- II Um oficial da Marinha praticou um crime de homicídio contra um praça a bordo de um navio de guerra brasileiro, que estava navegando em mar territorial da Argentina. Nessa situação, em face do princípio da territorialidade, o oficial ficará sujeito à legislação penal da Argentina.
- III João foi condenado pelo crime de peculato, por ter-se apropriado, com ânimo definitivo, do veículo de um particular que detinha a posse em razão do cargo que exercia em uma autarquia federal. Após o trânsito em julgado da sentença penal condenatória, entrou em vigor a lei Y, que deixou de considerar como infração penal a apropriação, por funcionário público, de bem móvel particular de que tinha a posse em razão do cargo. Nessa situação, com a lei nova discriminante (*abolitio criminis*), haverá a cessação de todos os efeitos jurídicos da condenação, inclusive os civis.
- IV Pedro constrangeu Maria, mediante grave ameaça exercida com o emprego de uma faca, a não celebrar um contrato de trabalho com determinada empresa comercial. Nessa situação, por analogia, Pedro responderá pelo crime de atentado contra a liberdade de contrato de trabalho.
- V Um indivíduo neutralizou a possibilidade de resistência da vítima com o emprego de entorpecentes e bebidas alcoólicas, e, após adormecê-la, subtraiu em proveito próprio a importância de R\$ 2.000,00. Nessa situação, por interpretação analógica, o indivíduo responderá pelo crime de roubo simples.

A quantidade de itens certos é igual a

- Ⓐ 1. Ⓑ 2. Ⓒ 3. Ⓓ 4. Ⓔ 5.

Com relação aos crimes contra o patrimônio, a fé pública, a administração pública, o sistema financeiro nacional e a ordem tributária, assinale a opção correta.

- A** Considere a seguinte situação hipotética.

Um indivíduo efetuou o empréstimo da importância de R\$ 10.000,00 a um terceiro, com recursos próprios, cobrando juros capitalizados de 30% ao mês.

Nessa situação, considerando a cobrança de juros extorsivos, o indivíduo responderá por crime contra o sistema financeiro nacional.

- B** Considere a seguinte situação hipotética.

Um indivíduo abasteceu o veículo automotor em um posto de gasolina e, como pagamento do combustível, utilizou-se de uma nota de R\$100,00 falsa, que não possuía marca d'água, fibras coloridas e fio de segurança magnetizado, tratando-se de falsificação grosseira.

Nessa situação, o indivíduo responderá pelo crime de moeda falsa.

- C** O sujeito ativo do crime de concussão somente pode ser o funcionário público que tenha assumido a função, não sendo possível a co-autoria ou a participação do particular.

- D** Considere a seguinte situação hipotética.

Mário adquiriu a prazo um veículo, emitindo um cheque no valor de R\$ 23.000,00 como garantia da dívida. O credor apresentou a cártula perante o banco sacado antes do vencimento da dívida, o qual a devolveu por insuficiência de fundos.

Nessa situação, Mário responderá pelo crime de estelionato, na modalidade de fraude no pagamento por meio de cheque.

- E** Comete crime funcional contra a ordem tributária o auditor fiscal que, em razão de sua função de fiscal de rendas, exige dinheiro de contribuinte para não lavrar auto de infração de tributo (IRPF) sonegado.