

# GEOGRAFIA

**31 d**

Assinale a alternativa que contenha o título correto para o mapa.



- a) Grandes domínios morfoclimáticos
- b) Nova classificação do relevo
- c) Grandes tipos climáticos
- d) Principais formações vegetais
- e) Estrutura geológica

**Resolução**

*O mapa é clássico e nos mostra os principais domínios ou formações vegetais do Brasil em suas áreas originais.*

**32 d**

*Os rios internacionais (que atravessam mais de um país) sempre foram causa de disputas e discussões. Até recentemente a poluição do rio \_\_\_\_\_, principalmente pelas indústrias alemãs, provocou discussões entre a Suíça, a França, os Países Baixos e a Alemanha.*

Melhem Adas

Assinale a alternativa que completa corretamente a lacuna.

- a) Danúbio      b) Volga      c) Ródano
- d) Reno      e) Ruhr

**Resolução**

*O principal rio europeu no que se refere às atividades econômicas é o Rio Reno.*

**33 b**

*Arrastada pela desaceleração dos E.U.A., a economia*

do México pode apresentar um crescimento de menos de 1% este ano.

Folha de São Paulo – 19/08/2001

O atrelamento da economia mexicana aos E.U.A. explica-se:

- a) pela dependência mexicana das matérias-primas importadas dos E.U.A.
- b) pelo fato de os E.U.A. serem destinatários de cerca de 90% das exportações mexicanas.
- c) pela absorção de grande parte da mão-de-obra mexicana pelo setor agrícola dos E.U.A.
- d) pela dependência mexicana ao petróleo americano, extraído principalmente no Texas.
- e) pela paridade artificial entre as moedas dos dois países.

#### **Resolução**

*A economia mexicana apresenta tradicional dependência em relação aos EUA.*

*Sobretudo após o Acordo de Livre Mercado da América do Norte – Nafta –, as relações comerciais México-EUA foram intensificadas, baseadas na livre circulação de mercadorias.*

*Note-se que há muitas empresas dos EUA instaladas no México, próximas à fronteira, que realizam a montagem de produtos a partir de peças e componentes feitos nos EUA. Tais empresas (as “maquiladoras”) são grandes exportadoras para os EUA, aproveitando-se dos menores custos com a mão-de-obra.*

### **34 C**

*O baixo crescimento vegetativo das exportações brasileiras ocorre por razões que vão desde o chamado “custo Brasil” à maior concorrência internacional.*

Folha de São Paulo – 19/08/2001

A expressão “custo Brasil” expressa a baixa competitividade das exportações brasileiras provocadas basicamente pela:

- a) dependência de componentes importados;
- b) predominância de produtos agrícolas na nossa pauta de exportação.
- c) elevada carga tributária e problemas de infraestrutura.
- d) distância das regiões industriais dos portos exportadores.
- e) disparidade salarial entre o Brasil e os demais países exportadores.

#### **Resolução**

*Entende-se por custo Brasil os vários fatores que encarecem a produção no Brasil, dificultando as exportações e diminuindo nossa competitividade no mercado internacional.*

*A elevada carga tributária e as deficiências da infraestrutura, como desaparelhamento dos portos e precariedade da rede viária, são fatores de grande relevância.*

**35 a**

*No limiar do século XXI, o mundo já é uma imensa cidade. Uma cidade modulada em muitas cidades. O globo terrestre deixa de parecer um planeta, uma configuração cósmica, para se revelar uma criação humana da atividade social, de algo que se cria e recria no curso da história dos povos. Esse é o atlas no qual se localizam as grandes e as pequenas cidades. São metrópoles e megalópoles, povoados e vilas, centros e periferias; sempre atados de perto e de longe por estradas, rodovias, ferrovias, linhas aéreas, infovias, sempre atados pelas atividades sociais, econômicas, políticas e culturais.*

Octavio Ianni – *Folha Mais* – 19/08/2001

No texto o autor sugere que:

- I) o planeta Terra é, hoje, uma construção humana, que se faz ao longo do tempo.
- II) as cidades, por menores que sejam, formam, graças aos meios de transporte e comunicação um conjunto único.
- III) a cidade é a síntese de todo o país e de toda a sociedade.
- IV) as cidades formam um conjunto acabado, atado e imobilizado em suas relações.

São verdadeiras:

- a) apenas I, II, III.
- b) apenas I e II.
- c) I, II, III e IV.
- d) apenas I, III e IV.
- e) apenas II e IV.

**Resolução**

*O texto trata da urbanização, processo observado em escala planetária, que vem provocando rápidas e grandes mudanças políticas e socioeconômicas nas diversas regiões do mundo.*

*A frase I é verdadeira, pois, de acordo com o texto, o globo terrestre é uma criação humana da atividade social, criada e recriada ao longo da história.*

*A frase II é verdadeira, pois a evolução dos sistemas de infra-estrutura facilita a ligação entre as cidades, independentemente de suas dimensões.*

*A frase III é verdadeira, pois as cidades mostram um conjunto de construções e formas, resultantes de sua história, ações econômicas, sistemas de produção e seus contrastes e contradições.*

*A frase IV é falsa, pois as cidades, embora formem um conjunto acabado, podem estar sujeitas à mobilidade em suas relações.*

**36 a**

Considere as seguintes afirmações.

- I) A atmosfera se aquece de baixo para cima. Primeiro a superfície terrestre absorve o calor solar que é, então, liberado gradualmente para a atmosfera.
- II) Nas madrugadas de inverno a superfície perde calor muito rapidamente e, portanto, a temperatura atmosférica próxima ao solo pode ficar

menor que nas camadas superiores.

Assinale:

- a) se I e II estiverem corretas e a II for responsável por fenômenos como as inversões térmicas.
- b) se apenas a I estiver correta, porque a temperatura diminui com a altitude, e sempre os lugares altos são mais frios que os lugares baixos.
- c) se apenas a II estiver correta, porque a atmosfera é aquecida pelo Sol, portanto, de cima para baixo.
- d) se ambas estiverem erradas.
- e) se I e II estiverem corretas e a II for responsável por fenômenos como as ilhas de calor.

#### **Resolução**

*A atmosfera terrestre se aquece de baixo para cima através da propagação do calor absorvida pela superfície terrestre. O ar aquecido sobe e o ar frio das camadas superiores desce, caracterizando a circulação atmosférica normal. Porém, no inverno, a superfície perde calor mais rapidamente com a ocorrência de inversões térmicas.*

### **37 b**

*Num futuro muito próximo, qualquer sistema econômico terá que se submeter, mais e mais, a exigências dinâmicas da natureza, esta entendida não como o mico-leão, o tatu-bola ou a orquídea selvagem em extinção, mas como a utilização dos recursos naturais para fins produtivos e com métodos não predatórios. Falar hoje em ecologia, portanto, é pensar em atuações econômicas e empresariais.*

H. Johr – *O Verde é Negócio*.

Uma tradicional atividade agrícola no Brasil preserva a vegetação nativa como aliada no processo produtivo. Trata-se da:

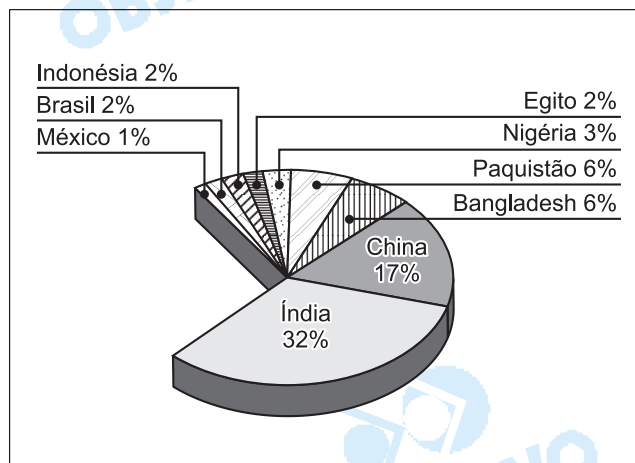
- a) cultura da cana, que preservou a vegetação nativa usada principalmente como anteparo para os ventos.
- b) cultura do cacau no sul da Bahia, que preservou a vegetação nativa, utilizada como sombreamento das plantações.
- c) cultura da laranja, principalmente no estado de São Paulo, onde trechos da Mata Atlântica foram preservados para diminuir o ataque de pragas.
- d) atividade madeireira no Sul do Brasil, que se abastece de espécies da Mata da Araucária, extraídas de forma seletiva.
- e) cafeicultura, que conservou largos trechos da Mata Tropical no Planalto Paulista, como forma de diminuir o risco de geadas.

#### **Resolução**

*O texto refere-se à utilização de recursos naturais para fins produtivos com métodos não-predatórios. No Brasil, a atividade agrícola que preserva a vegetação nativa é o cultivo de cacau no sul da Bahia, onde é uti-*

lizado o método de "sombreamento", ou seja, o plantio do cacaueteiro entre as árvores mais altas da Mata Atlântica.

**38 C**



O gráfico expressa a:

- a) participação das atividades agrárias na composição do PIB.
- b) utilização de mão-de-obra no setor primário.
- c) porcentagem de analfabetos em relação ao total mundial.
- d) porcentagem de população absoluta em relação ao total mundial.
- e) porcentagem de idosos na composição da população.

**Resolução**

O gráfico apresenta as porcentagens de analfabetos em relação ao total mundial.

Nota-se que apesar de a China possuir a maior população absoluta, sua porcentagem é menor que a Índia, pois esta última apresenta níveis muito baixos de escolarização, em torno de 44%, e a China, em torno de 15%.

Um aspecto diferencia os países destacados no mapa dos demais países sul-americanos.



Trata-se:

- a) do clima, que, devido à altitude, é temperado, com as estações bem definidas e chuvas regulares.
- b) da economia, que, fortemente atrelada às antigas metrópoles, tem apresentado índices de crescimento muito altos.
- c) da composição étnica da população, que inclui, além de brancos, negros e indígenas, grandes contingentes de indianos, javaneses, chineses e malaio.
- d) do padrão de vida, que apresenta indicadores que se assemelham aos países europeus.
- e) do perfil exportador, baseado em produtos industrializados de alta tecnologia.

#### **Resolução**

*Os países destacados no mapa correspondem às chamadas "Guianas", compreendendo a República Cooperativista da Guiana, Suriname e Guiana Francesa.*

*Esses países foram colônias de grandes nações europeias, exceção da Guiana Francesa, que ainda permanece sob domínio francês. Tal condição levou à introdução de mão-de-obra de outras colônias localizadas em outros continentes, como África e Ásia, a fim de viabilizar a exploração econômica desses territórios.*

*Conseqüentemente, as "Guianas" passaram a se diferenciar dos demais países sul-americanos em virtude de sua composição étnica, muito distinta do padrão verificado na região.*

*É relevante lembrar a condição de subdesenvolvimento desse grupo de países:*

- *predomínio de atividades econômicas primárias;*
- *baixo padrão socioeconômico;*
- *crescimento econômico baixo ou pouco significativo.*

A alternativa A não é verdadeira em razão do clima predominantemente equatorial da região.

**40 e**

Há também as chuvas \_\_\_\_\_, que ocorrem nas zonas \_\_\_\_\_, localizadas em torno da latitude de  $40^\circ$ . São causadas pelo choque dos ventos quentessubtropicais com os ventos frios polares.

Igor Moreira

Assinale a alternativa que completa correta e respectivamente as lacunas.

- a) convectivas – equatoriais
- b) frontais – subtropicais
- c) convectivas – temperadas
- d) frontais – tropicais
- e) frontais – temperadas

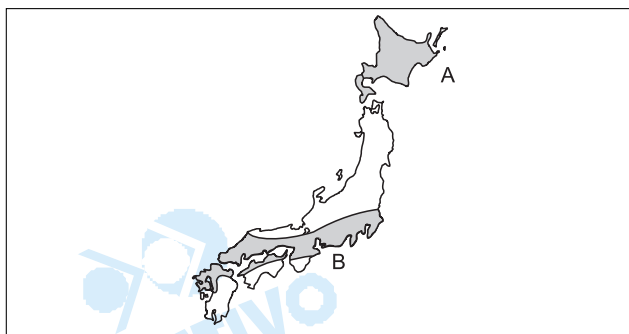
**Resolução**

As chuvas decorrentes do choque dos ventos quentes com os ventos frios polares são denominados **frontais**.

A latitude  $40^\circ$  está inserida na zona temperada do globo.

**41 e**

Considere as seguintes afirmações sobre as áreas A e B destacadas no mapa do Japão.



- I) A área A caracteriza-se pelo clima frio, provocado pela alta latitude e pela influência de correntes marítimas frias.
- II) A área B apresenta climas que variam dos temperados úmidos aos subtropicais.
- III) A área A é constituída por planícies aproveitadas para o cultivo de cereais como o arroz.
- IV) A área B corresponde à principal concentração urbano-industrial do país.
- V) A área A apresenta baixas densidades demográficas.
- VI) Apesar dos marcantes contrastes naturais, A e B não se diferenciam do ponto de vista demográfico.

Assinale:

- a) se apenas I, II e VI forem verdadeiras.
- b) se apenas I, II, III, IV e V forem verdadeiras.
- c) se apenas II, IV e VI forem verdadeiras.
- d) se apenas I, III e V forem verdadeiras.
- e) se apenas I, II, IV e V forem verdadeiras.

### Resolução

A questão trata de regiões geoeconômicas no Japão, destacadas no mapa com as letras **a** ao norte da ilha de Hokkaido e **b** no centro-sul do Japão abrangendo o sul da ilha de Honshu e norte das ilhas de Shikoku e Kiushu.

A afirmativa I está correta pois caracteriza a região **a** como de área de alta latitude, com clima frio e influência de corrente fria Oya Shivo.

A afirmativa II está correta pois caracteriza a região **b** com climas variando do temperado oceânico ao subtropical.

A afirmativa III é falsa pois afirma que a região **a** é formada por planícies, na verdade é região formada por montanhas vulcânicas.

A afirmativa IV está correta pois localiza na região **b** a maior concentração urbano-industrial.

A afirmativa V está correta pois identifica baixas densidades em **a**.

A afirmativa VI está falsa pois afirma que as regiões não apresentam diferenciais do ponto de vista demográfico.

### 42 a

É comum o comentário de que o multiculturalismo e preferência social estão "balcanizando" os Estados Unidos, mas é um erro falar sobre esta ameaça.

Michael Lind – A Nova Nação Americana

O termo "balcanizando" refere-se:

- a) à fragmentação política de um país a partir dos diferentes grupos étnicos.
- b) ao empobrecimento generalizado do país provocado pela falência das instituições políticas.
- c) à progressiva redução das atividades produtivas, gerando uma forte recessão.
- d) à escalada do terrorismo motivada, principalmente, pelas divergências religiosas.

### Resolução

O termo balcanização relaciona-se com o processo de fragmentação ocorrido na ex-Iugoslávia a partir de momentos emancipacionistas dos diferentes grupos étnicos como os muçulmanos de origem albanesa no Kosovo.

### 43 b

No Brasil, o vocábulo "serra" é usado com sentido amplo na linguagem corrente. Qualquer elevação com forte desnível é assim chamada. Sob o ponto de vista geomorfológico, o termo "serra" é impróprio para designar as "serras" do Mar e da Mantiqueira, que na verdade constituem:

- a) chapadas sedimentares.
- b) escarpas de falha.



- c) mares de morros.
- d) cadeias montanhosas de baixa altitude.
- e) planaltos desgastados.

**Resolução**

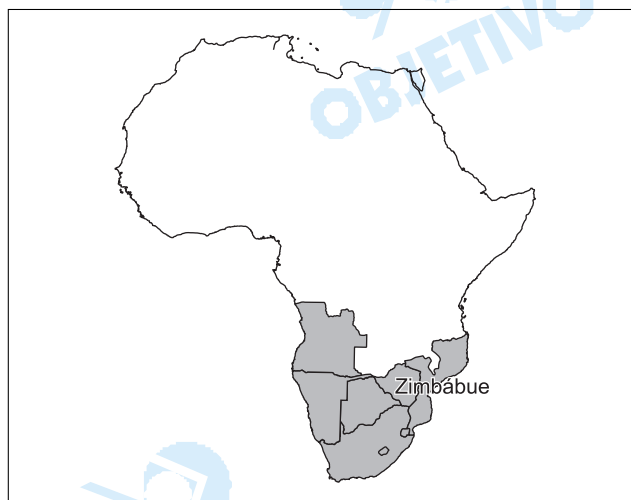
*No Brasil, quando se estuda o relevo e suas formas, é comum o emprego do termo "serra" para designar o que na realidade é uma escarpa de planalto ou escarpa de falha, estruturas elevadas por agrotectônica, formando desníveis como o encontrado na "serra" ou escarpa do mar, no estado de S. Paulo, com médias de 800 e 900m de altitude em relação ao nível do mar.*

**44 d**

*O Zimbábue é um barril de pólvora que pode explodir a qualquer momento, avalia a brasileira Tamar Fremder, que vive há dezenove anos no país africano.*

*O Estado de São Paulo – 19/08/2001*

Considere as seguintes afirmações sobre a região representada no mapa.



- I) O colonialismo, ou regimes dominados por minorias brancas, estiveram presentes até muito recentemente.
- II) Ainda existem, em alguns países, minorias brancas que detêm o controle das terras e de boa parte das atividades econômicas.
- III) Apesar de inúmeros problemas, a área herdou das antigas metrópoles uma estrutura agro-industrial que é responsável pelos melhores indicadores sociais do continente africano.
- IV) Não se verificam conflitos tribais que resultem em massacres étnicos.

Assinale:

- a) se todas forem corretas.
- b) se apenas I e II forem corretas.
- c) se apenas I, II e III forem corretas.
- d) se apenas I, II e IV forem corretas.
- e) se apenas III e IV forem corretas.

**Resolução**

*A tensão presente no Zimbábue é fruto do colonialismo que privilegiou as minorias brancas (I), cujos resquícios permanecem até hoje na estrutura produtiva*

(II).

No Zimbábue não ocorrem conflitos tribais, a tensão é étnica entre a minoria branca e a maioria negra (III).

**45 e**

Considere os seguintes textos.

I) *O subdesenvolvimento não resulta de espoliação internacional ou falta de recursos naturais. É sempre um fenômeno cultural: misto de idiotice e mau-caratismo. Infelizmente, ambas as coisas são abundantes neste continente.*

Roberto Campos

II) *Percorrendo a África, de norte a sul e leste a oeste, como relator do Parlamento Europeu para o além-mar e, em outras ocasiões, viajando pelo Extremo Oriente, América Latina e Oceania, constatei que isso que chamamos de subdesenvolvimento é, antes de tudo o "não-desenvolvimento" obstinado das sociedades. O que chamamos de desenvolvimento é o progresso, que resulta essencialmente da convergência de fatores culturais favoráveis.*

A. Peyrefitte

A análise dos mesmos permite afirmar que ambos os autores:

- a) consideram o subdesenvolvimento um fenômeno provocado basicamente por causas externas.
- b) acreditam que a solução para os problemas do subdesenvolvimento será sempre resultado da ajuda econômica dos países ricos.
- c) consideram o subdesenvolvimento como um conjunto de processos políticos e econômicos, com causas internas e externas.
- d) apontam como a principal causa para o subdesenvolvimento os mecanismos internacionais de exploração econômica.
- e) desconsideram as conotações políticas e econômicas, nem mencionam a dependência dos países pobres como causas do subdesenvolvimento.

### **Resolução**

Os textos I e II limitam-se a considerar aspectos deterministas para explicar o subdesenvolvimento. Frases como "fenômeno cultural: misto de idiotice e mau-caratismo" no texto I e II "não-desenvolvimento obstinado das sociedades", no texto II não mostram características econômicas como deterioração dos termos de troca no mercado de commodities que desfavorece a balança comercial de países mais pobres ou sistemas políticos pouco estruturados em função de instabilidades étnicas resultantes de processos de dominação colonial.

### **Comentário de Geografia**

A Universidade Mackenzie em seu exame vestibular para o 1º semestre de 2002, apresentou aos candidatos, uma prova bem montada, com ilustrações de fácil entendimento e textos bem atualizados.

A prova privilegiou aspectos socioeconômicos de Geografia Geral. As questões de Geografia do Brasil foram equilibradas entre quadro natural e socioeconômico.

O aluno bem preparado não deve ter encontrado maiores dificuldades em função da clareza, objetividade e abordagem clássica.

